

ГН-01

Всероссийская олимпиада школьников 2024-2025 учебный год  
Школьный этап. География, 10-11 класс, задания  
Время выполнения 90 мин. Максимальное кол-во баллов – 60

**Бланк ответов**  
**Тестовый тур**

**Матрица ответов**

№ задания	Ответ	Кол-во баллов	№ задания	Ответ	Кол-во баллов
1	A	0	11	A	1
2	B	1	12	Исландия	1
3	A Г В Б	0	13	B	1
4	A4 B6 B7 Г2 A1	0	14	A2 <del>B6</del> B7 Г5	0
5	B	0	15	B	1
6	Вулкан	0	16	Земельный	1
7	A3 B2 B4 Г1	0	17	Саянские горы	0
8		—	18		—
9	Г	0	19	Пайка	1
10	Везувий	0	20	735X24	0
	Всего				7

**Практический тур**

**Задание 1.**

Определите туристический объект, его название и страну, в которой он находится. Запишите название туристического объекта и страну его нахождения.

Максимальное количество баллов – 10 баллов.

Туристический объект	Название туристического объекта	Страна нахождения туристического объекта	Количество баллов
1.	Каменные статуи	Остров Пасхи	1
2	Собор Василия Блаженного	Россия	2
3	Гора Фудзияма	Япония	2
4	Великая Китайская стена	Китай	2
5	Бразильский фестиваль	Бразилия	2

9

**Задание 2. Определите географический район по его характеристике.**

Максимальное количество баллов – 10.

№	Вопрос	Ответы	Кол-во баллов
1.	Назовите географический район	Южная Дания	-
2.	Какие два края входят в состав района?	Краснодарский	1
3.	Назовите город федерального значения	Севастополь	2
4.	Назовите отрасли специализации района	Торно-добывающая промышленность, Сельское хозяйство	0
5.	Назовите крупные города района	Краснодар, Севастополь, Тамбов, Кос-Донку, Владикавказ	2

**Задание 3.**

Рассчитайте ресурсообеспеченность стран. Используя данные из приведённой ниже таблицы, сравните ресурсообеспеченность стран пресной водой. Расположите страны в порядке уменьшения в них показателя ресурсообеспеченности пресной водой на душу населения, начиная со страны с наибольшим показателем.

**Максимальное количество баллов – 10 баллов.**

Расположите страны в порядке уменьшения в них показателя ресурсообеспеченности пресной водой на душу населения, начиная со страны с наибольшим показателем.

№	Страна	Ресурсообеспеченность
1.	Канада	$\approx 75$
2.	Венесуэла	$\approx 50$
3.	Дания	$\approx 37$
4.	Индия	$\approx 7,25$
5.	Мьянма	$\approx 7$

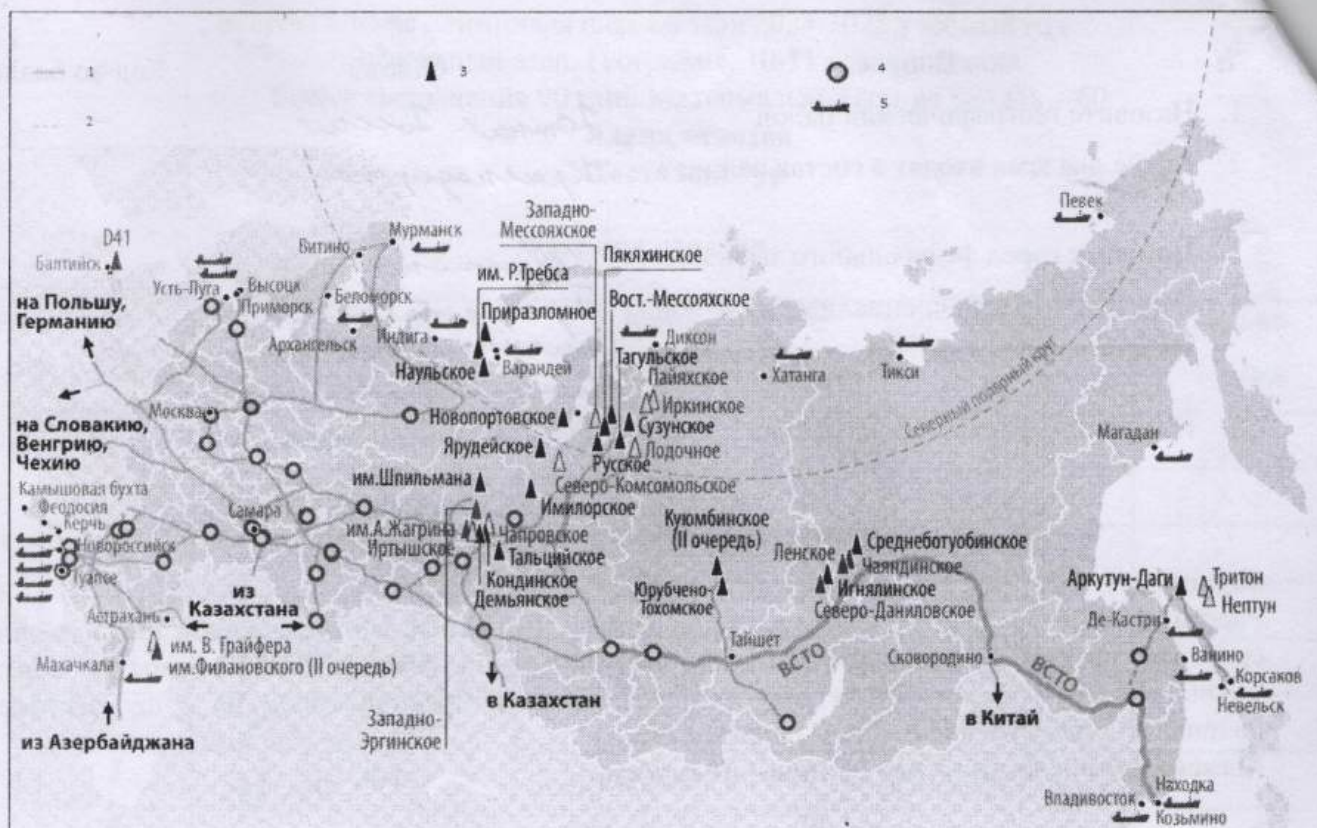
**Задание 4.**

Перед вами карта. Ответьте на вопросы, используя данную карту.

**Максимальное количество баллов – 10 баллов.**



Г11-01



1) Напишите название карты

Нефте-газовая страна России

2) Напишите название условных обозначений в легенде карты

Цифра	Название
1	линии Нефтепровода
2	
3	нефть
4	место хранения Нефтеперерабатывающий завод
5	Порты для экспорта нефти

3) Какими видами транспортировки можно перевозить данный продукт

На кораблях, по трубам, на машинах

4) Назовите географический район – лидер по добыче данного ресурса

Западная Сибирь



Г 11-01

Всероссийская олимпиада школьников 2024-2025 учебный год  
Школьный этап. География, 10-11 класс, задания  
Время выполнения 90 мин. Максимальное кол-во баллов – 60

**Тестовый тур**

Все ответы занесите в БЛАНК для ответов

**1. Какие страны входят в Европейский союз?**

- ☒ А. Норвегия, Венгрия, Франция, Греция;
- Б. Великобритания, Германия, Испания, Швеция;
- В. Словакия, Финляндия, Болгария, Хорватия;
- Г. Мальта, Нидерланды, Польша, Швейцария.

**2. Определите страну по описанию:**

Граничит по суше с более 5 странами. Имеет выход к морю. В стране государственный строй — парламентская республика. Преобладают равнины и низменности. Большое количество медных руд, каменного угля. Является крупнейшим производителем тритикале, ржи, яблок, сахарной свеклы. Католицизм исповедует 80% населения страны. На территории этой страны проживает наибольшее количество белых аистов (23% от мировой популяции). Мазурское поозёрье представляют собой исторический и этнографический район в северной части страны.

- А. Монако;
- Б. Австрия;
- ☒ В. Польша;
- Г. Болгария.

**3. Расположите реки по их географическому положению с запада на восток:**

- А. Волга;
- Б. Лена;
- В. Индигирка;
- Г. Обь.

А Г В Б

**4. Установите соответствие между страной и столицей. Запишите буквы и цифры, соответствующие выбранным ответам.**

- А) Нидерланды
- Б) Саудовская Аравия
- В) Гамбия
- Г) Объединенные Арабские Эмираты
- Д) Сербия

- 1) Белград
- 2) Дубай
- 3) Эр-Рияд
- 4) Амстердам
- 5) Виндхук
- 6) Абу-Даби
- 7) Банжул

А 4 Б 6 В 7 Г 2 Д 1

**5. Общая площадь Красноярского края составляет:**

- А. 2 845,5 тыс. км<sup>2</sup>
- ☒ Б. 2 784,6 тыс. км<sup>2</sup>
- В. 2 981,7 тыс. км<sup>2</sup>
- Г. 2 366,8 тыс. км<sup>2</sup>

**6. Назовите самую многоводную реку Российской Федерации:**

Волга

**7. Установите соответствие между термином и описанием. Запишите буквы и цифры, соответствующие выбранным ответам.**

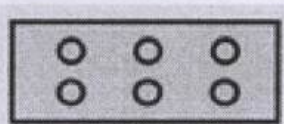
- А) Атмосферный фронт
- Б) Воздушные массы
- В) Циклон
- Г) Антициклон
- 1) Крупный атмосферный вихрь с пониженным давлением в центре.
- 2) Подвижные объемы воздуха в тропосфере, одинаковые по своим свойствам.
- 3) Вытянутая зона в тропосфере на границе воздушных масс с различными свойствами.
- 4) Крупный атмосферный вихрь с повышенным давлением в центре.
- ~~Х~~ Сезонный ветер, меняющий свое направление летом и зимой.



ГРР-01

8. Определите изображения условных знаков на топографической карте, которые представлены ниже:


А.



В.



Б.



Г.



9. Выберите верное утверждение, характеризующее Российскую Федерацию:

- А. Крупнейшее озеро полуострова Ямал - Имандра, славится чистотой своих вод и ценными ресурсами сиговых рыб.
- Б. Нефтяное месторождение Ромашкинское входит в первую двадцатку крупнейших месторождений мира.
- В. Основные отрасли специализации Поволжья — черная и цветная металлургия и оборонно-промышленный комплекс.
- Г. В 2023 году Россия вышла на первое место в мире по импорту пшеницы.

10. Назовите один из самых активных вулканов Евразии, его высота около 4700 метров.

11. Какие крупные народы относятся к финно-угорской группе?

- А. Мордва, удмурты, марийцы;
- Б. Аварцы, черкесы, адыгейцы;
- В. Кумыки, балкарцы, карелы;
- Г. Чуваши, башкиры, финны.

12. Самая молодая традиционная мировая религия.

13. Численность населения, которая соответствует среднему городу

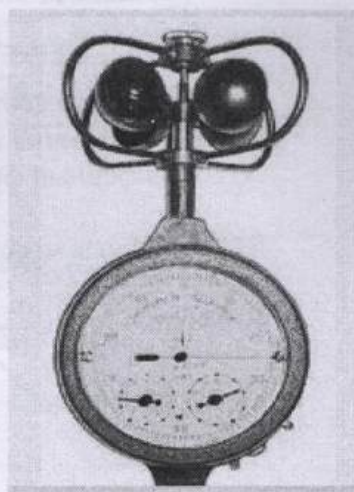
- А. От 500 тыс.;
- Б. До 50 тыс.;
- В. 50 - 100 тыс.;
- Г. 500 - 750 тыс.

14. Сопоставьте географические приборы и их названия:

А. 2



В. 7




Б. 6

Г. 5



Г11-01



- 1 — Гигрометр;                      3 — Анемометр;                      5 — Психрометр;  
2 — Барометр;                      4 — Курвиметр;                      6 — Компас.

15. Крупнейший центр производства легковых автомобилей в Российской Федерации:

- А. Нижний Новгород;                      В. Тольятти;  
Б. Набережные Челны;                      Г. Ульяновск.

16. Высочайшая точка Российской Федерации: Эльбрус

17. Назовите географический центр нашей страны, расположенный в Красноярском крае, на юго-западной части плато Путорана:

18. Напишите название термина по определению.

Совокупность врожденных способностей и приобретенных знаний, умений и навыков, использующихся для удовлетворения многообразных потребностей человека и общества в целом.

19. Самая большая по площади природная зона России: Тайга

20. Расположите в правильной последовательности геологические эры, начиная с самой молодой.

1. Протерозойская;                      4. Палеозойская;  
2. Мезозойская;                      5. Кайнозойская.  
3. Архейская;

35 #27

### Практический тур

#### Задание 1.

Определите туристический объект, его название и страну, в которой он находится. Запишите название туристического объекта и страну его нахождения.

Максимальное количество баллов – 10 баллов.

№	Туристический объект	№	Туристический объект
---	----------------------	---	----------------------



1.



2.



3.



4.



5.



## Задание 2. Определите географический район по его характеристике.

Максимальное количество баллов – 10.

Плодородные равнины, богатые недра сделали эту территорию благоприятной для человеческой деятельности. Единственное место в мире, где находится 17 гор-лакколитов, которые геологи зачастую называют «неудавшимися вулканами». Через морские порты обеспечивает выход России к стратегическим проливам. В состав района включены 10 республик, 2 края, 3 области и город федерального значения. Велики запасы вольфрамово-молибденовых руд, давно разрабатывается месторождение свинцово-цинковых руд, также есть месторождения нефти, газа и железных руд. Самый многонациональный район и один из наиболее густонаселенных регионов России. Самый крупный город территории, основанный в 1749 году, расположен совсем не в географическом центре района, и это связано со строительством железной дороги. Главная отрасль экономики — сельское хозяйство, здесь сложился мощный агропромышленный комплекс.



№	Вопрос
1.	Назовите географический район <i>Южная Россия</i>
2.	Какие два края входят в состав района? <i>Краснодарский,</i>
3.	Назовите город федерального значения <i>Севастополь</i>
4.	Назовите отрасли специализации района <i>Сельское хозяйство, Горно-добывающая промышленность</i>
5.	Назовите крупные города района <i>Краснодар, Севастополь, Владикавказ, Ростов-на-Дону.</i>

**Задание 3.**

Рассчитайте ресурсообеспеченность стран. Используя данные из приведённой ниже таблицы, сравните ресурсообеспеченность стран пресной водой. Расположите страны в порядке уменьшения в них показателя ресурсообеспеченности пресной водой на душу населения, начиная со страны с наибольшим показателем.

**Максимальное количество баллов – 10 баллов.**

№	Название страны	Добыча, млрд т	Численность населения, млн. чел.	Ресурсы, км <sup>3</sup>
1.	Российская Федерация	64,9	144	4 500
2.	Венесуэла	50	28	1 320
3.	Канада	58,7	38	2 900
4.	Индия	62,2	1,417	2 085
5.	Мьянма	20	54	55

Расположите страны в порядке уменьшения в них показателя ресурсообеспеченности пресной водой на душу населения, начиная со страны с наибольшим показателем.

**Задание 4.**

Перед вами карта. Ответьте на вопросы, используя данную карту.

**Максимальное количество баллов – 10 баллов.**

*потребление*

3) РФ - 2,7  
 1) Венесуэла - 0,56  
 2) Канада - 0,64  
 5) Индия - 2,2  
 4) Мьянма - 2,7

$$\begin{array}{r} 380 \overline{) 59} \\ 354 \overline{) 0,64} \\ \hline 260 \end{array}$$

*Всего*

3) Россия - 3,7  
 2) Венесуэла - 5,0  
 1) Канада - 7,5  
 4) Индия - 1,25  
 5) Мьянма - 7



Г11-01



- 1) Напишите название карты
- 2) Напишите название условных обозначений в легенде карты
- 3) Какими видами транспортировки можно перевозить данный продукт
- 4) Назовите географический район – лидер по добыче данного ресурса