

Школьный этап. ОБЖ, 9 классы, ЗАДАНИЯ

Время выполнения 45 мин+ 15 минут. Максимальное кол-во баллов – 100+100=200

Разработчик: Чмилёва Ирина Борисовна, КГПУ им В.П. Астафьева

ТЕОРЕТИЧЕСКИЙ ТУР

Шифр

09-02	маю см ~ 8
-------	------------

ТЕОРЕТИЧЕСКИЕ ЗАДАНИЯ

ПРЕДМЕТНАЯ СЕКЦИЯ «ОБЕСПЕЧЕНИЕ ЛИЧНОЙ БЕЗОПАСНОСТИ В ПОВСЕДНЕВНОЙ ЖИЗНИ»

ЗАДАНИЕ 1 (максимальный балл -30)

1.1. Заполните таблицу

Характер нарушения	Признаки и симптомы
Частичная непроходимость дыхательных путей, сознание сохранено.	звонкая или потеря сознания нехватка кислорода
Полная непроходимость дыхательных путей, дыхание сохранено	полная остановка дыхания судорожки
Удушье, потеря сознания.	человек в не сознательном

1.2. Перечислите признаки и симптомы инсульта

Повышенное артериальное давление, частичная обездвиженность, потеря сознания
интенсивная головная боль, судороги








1.3. Перечислите признаки и симптомы проникающего ранения грудной клетки:

Проникновение инородных тел в грудную клетку, повреждение
тканей, потеря крови, сильная боль, затрудненное дыхание








Оценочные баллы: максимальный – 30 баллов; фактический – 4 балла
Подписи членов жюри _____

ЗАДАНИЕ 2. (максимальный балл - 25)

2.1. Заполните таблицу ядовитых растений леса

Название растения	Рисунок растения	Название растения	Рисунок растения
1		2	
3		4	
5		6	
7			

2.2. Заполните таблицу ядовитых домашних растений

Название растения	Рисунок растения	Название растения	Рисунок растения
1		2	
3		4	
5		6	
7			

2.3. Дайте определение ядовитым растениям.

2 ядовитые растения растения те их токсины
или различные факторы вредны для человека

5 2.4. Какую первую помощь необходимо оказать пострадавшему при отравлении ядовитыми растениями?

Пострадавшего сохранять спокойствие пострадавшего
вызвать скорую уложить на спину голову запрокинуть
примывать глаза водой промывать нос после отравления.

Оценочные баллы: максимальный – 25 баллов; фактический – 9 баллов

Подписи членов жюри

ЗАДАНИЕ 3. (максимальный балл - 30)

3.1. Дайте определение:

Социум –

социум круг общения общества человека и то
что окружает дружба знакомые знакомые
общение с людьми или контакты с ними

3.2. Перечислите опасные социально-политические явления:

Плохая власть на человека замышляет бродяжничество
здоровью и для видящие против закона.

3.3. Перечислите опасные социально-экономические явления:

замышляет драматическими делами не удовлетворяющие
общество и закон

3.4. Дайте определение:

Конфликту

Различные ситуации вошли до негативных действий
и различными последствиями вредящие человеку

3.5. Перечислите виды политического конфликта:

Политический конфликт ситуация с негативными
социальными отношениями и последствиями действия
или на окружающих людей.

Оценочные баллы: максимальный – 30 баллов; фактический – 0 баллов

Подписи членов жюри

ТЕСТОВЫЕ ЗАДАНИЯ

№ п/п	Вопрос		ответы
1	На сколько градусов отличаются азимуты юго-востока и юго-запада: А) 180°; Б) 135°; В) 90°; Г) 45°.	1	0...
2	Основной способ передачи возбудителя гриппа: А) воздушно-капельный; Б) контактный; <input checked="" type="radio"/> В) инъекционный; Г) пищевой	1	0...
3	Покрывало спасательное изотермическое накладывается серебристой стороной внутрь (к пострадавшему) при? А) тепловом ударе; <input checked="" type="radio"/> Б) переохлаждении; В) солнечном ударе; Г) значительном повышении температуры тела при инфекционных заболеваниях	1	1...
4	Основными загрязнителями поверхностных вод являются: А) синтетические моющие средства; <input checked="" type="radio"/> Б) нефть и нефтепродукты; В) сточные воды; Г) пестициды.	1	1...
5	При получении сигнала оповещения о радиационной аварии, находясь на улице, первым делом необходимо: А) защитить органы дыхания; <input checked="" type="radio"/> Б) добежать до дома; В) провести йодную профилактику; Г) позвонить в полицию.	1	0...
6	Что из перечисленного НЕ является мероприятием первой медицинской помощи? А) наложение давящей повязки на рану при венозном кровотечении; Б) наложение шины при закрытом переломе голени; <input checked="" type="radio"/> В) непрямой массаж сердца при отсутствии пульса; Г) самостоятельное вправление вывиха.	1	0...
7	Если вы, находясь на замёрзшем водоёме, почувствовали, что под вами проваливается лёд, то как вы будете передвигаться, чтоб не провалиться? А) пробежите этот отрезок быстро вперёд; Б) бегом назад; В) шагом вперёд, не поднимая ног, почти скользя; <input checked="" type="radio"/> Г) назад ползком на четвереньках или по-пластунски.	1	1...
8	Наибольшей энергетической ценностью обладают А) белки; Б) углеводы; В) жиры; <input checked="" type="radio"/> Г) минеральные вещества.	1	0...
9	Большое затопление местности в результате подъема уровня воды в водоёме – это... А) половодье;	1	...

	Б) наводнение; В) разлив; <input checked="" type="radio"/> Г) потоп		0
10	Какие бывают переломы конечностей? А) тайный; Б) внутренний; В) наружный; <input checked="" type="radio"/> Г) закрытый, открытый.	1	1...
11	Что не относится к основным видам экстремальных ситуаций в природных условиях? <input checked="" type="radio"/> А) Потеря ориентировки на местности; Б) Резкое изменение природных условий; В) Смена климатогеографических условий; Г) Вынужденное автономное существование.	1	1...
12	Укажите наиболее опасные последствия аварий и катастроф. А) Селевые потоки, оползни; Б) Ураганы, бури, смерчи; <input checked="" type="radio"/> В) Взрывы, пожары, затопления, заражение окружающей среды ядовитыми и радиоактивными веществами; Г) Эпидемии, эпифитотии.	1	1...
13	По масштабу распространения чрезвычайные ситуации классифицируются на: А) локальные, местные, муниципальные; Б) межмуниципальные, региональные, межрегиональные; <input checked="" type="radio"/> В) региональные, межрегиональные, федеральные; Г) локальные, муниципальные, межмуниципальные, региональные, межрегиональные, федеральные.	1	0...
14	Здоровый образ жизни – это: А) мировоззрение человека, которое складывается из знаний о здоровье; <input checked="" type="radio"/> Б) индивидуальная система поведения человека, направленная на сохранение и укрепление здоровья; В) система жизнедеятельности человека, в которой главной составляющей является отказ от вредных привычек; Г) достаточная двигательная активность и правильное питание.	1	1...
15	К какой группе здоровья относятся дети со сниженной сопротивляемостью организма, у которых отсутствуют хронические заболевания, а также дети, часто (4 раза в год и более) и длительно болеющие (более 25 дней по одному заболеванию)? А) К 4-й группе; <input checked="" type="radio"/> Б) К 2-й группе; В) К 1-й группе; Г) К 3-й группе.	1	1...

№	1	2	3	4	5	6	7	8	9	10	11	12	13	14	15
ответ															

Оценочные баллы: максимальный – 15 баллов; фактический - 8 баллов

Подписи членов жюри _____ Оценочные

баллы: максимальный – 100 баллов; фактический - 21 баллов

Подпись председателя жюри _____